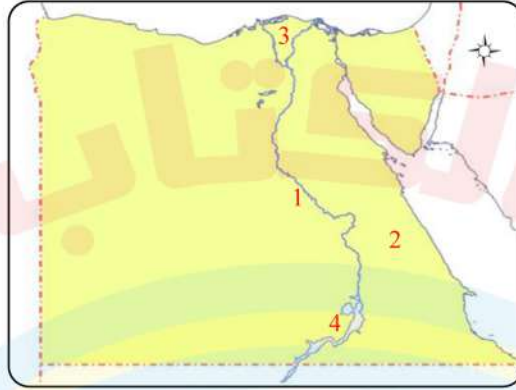


س1 أمامك خريطة صماء لمصر ادرسها ثم اختر ما تشير إليه الأرقام مما بين القوسين :



- 1- يشير رقم (1) إلى (قناة السويس – البحر الأحمر – البحر المتوسط – نهر النيل)
- 2- يشير رقم (2) إلى (الصحراء الشرقية – الصحراء الغربية – شبه جزيرة سيناء – الوادي)
- 3- يشير رقم (3) إلى (الوادي – الدلتا – الصحراء الشرقية – الصحراء الغربية)
- 4- يشير رقم (4) إلى (بحيرة البرلس – بحيرة ناصر – بحيرة المنزلة – خليج السويس)

س2 صوب ما تحته خط :

- 1- الفيلم الوثائقي حول قناة السويس يعد مصدرًا ثانويًا. (.....)
- 2- مناخ مصر معتدل وممطر في فصل الصيف. (.....)

س3 أكمل العبارات الآتية بالاختيار المناسب مما بين القوسين :

(قناة السويس – الخريطة – الحرارة)

- 1- يستخدم المدرس ليوضح الأماكن المختلفة لطلابه.
- 2- أصبح موقع مصر الجغرافي أكثر أهمية بعد حفر
- 3- الترمومتر يستخدم في قياس درجات

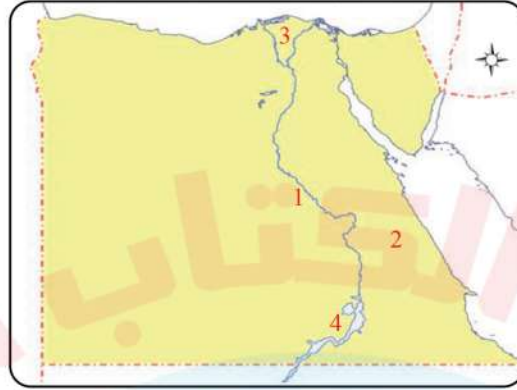
س4 حدد العلاقة بين المفهومين الآتيين : - العلم والشعار.

.....

.....

.....

س1 أمامك خريطة صماء لمصر ادرسها ثم اختر ما تشير إليه الأرقام مما بين القوسين :



- 1- يشير رقم (1) إلى ...نهر النيل..... (قناة السويس – البحر الأحمر – البحر المتوسط – نهر النيل)
- 2- يشير رقم (2) إلى الصحراء الشرقية.
- (الصحراء الشرقية – الصحراء الغربية – شبه جزيرة سيناء – الوادي)
- 3- يشير رقم (3) إلى الدلتا..... (الوادي – الدلتا – الصحراء الشرقية – الصحراء الغربية)
- 4- يشير رقم (4) إلى بحيرة ناصر..... (بحيرة البرلس – بحيرة ناصر – بحيرة المنزلة – خليج السويس)

س2 صوب ما تحته خط :

- 1- الفيلم الوثائقي حول قناة السويس يعد مصدرًا ثانويًا. (..... أوليًا.....)
- 2- مناخ مصر معتدل وممطر في فصل الصيف. (..... الشتاء.....)

س3 أكمل العبارات الآتية بالاختيار المناسب مما بين القوسين :

(قناة السويس – الخريطة – الحرارة)

- 1- يستخدم المدرس ..الخريطة..... ليوضح الأماكن المختلفة لطلابه.
- 2- أصبح موقع مصر الجغرافي أكثر أهمية بعد حفر ..قناة السويس.....
- 3- الترمومتر يستخدم في قياس درجات ..الحرارة.....

س4 حدد العلاقة بين المفهومين الآتيين : - العلم والشعار.

.....كلاً منهما. يرمز لتراث أو أحداث تاريخية خاصة بالدولة أو المحافظة.....

س1 ضع علامة (✓) أمام العبارة الصحيحة وعلامة (×) أمام العبارة غير الصحيحة :

- 1- يساعدنا عنوان الخريطة في معرفة الاتجاهات الأصلية والفرعية. ()
- 2- يتكون العلم المصرى من خمسة ألوان. ()
- 3- إذا وصفنا حالة الجو في محافظة القاهرة لمدة عام فإننا نصف المناخ. ()

س2 صل من العمود (أ) بما يناسبه من العمود (ب) :

العمود (ب)	العمود (أ)
(أ) السلام .	1- يعد من أهم أشكال السطح في شبه جزيرة سيناء
(ب) الاقتصاد.	2- يدل اللون الأبيض في علم مصر على
(ج) جبل سانت كاترين .	3- ساعد موقع مصر الجغرافى على ازدهار.

س3 ماذا يحدث إذا لم نعرف استخدام البوصلة ؟

.....

.....

.....

.....

س4 اختر الإجابة الصحيحة مما بين القوسين :

- 1- إذا أردت تلوين منخفض القطارة على الخريطة فسوف تختار اللون
- (البنى - الأزرق - الأصفر - الأخضر)
- 2- يعرف اتجاه الرياح باستخدام
- (الأنيمومتر - الترمومتر - جوب الرياح - البارومتر)
- 3- الخطوط التي تتخذ شكلاً طوليًّا على الخريطة تسمى
- (الرموز والألوان - دوائر العرض - خطوط الطول - مفتاح الخريطة)

س 1 ضع علامة (✓) أمام العبارة الصحيحة وعلامة (×) أمام العبارة غير الصحيحة :

- 1- يساعدنا عنوان الخريطة في معرفة الاتجاهات الأصلية والفرعية. (×)
- 2- يتكون العلم المصرى من خمسة ألوان. (×)
- 3- إذا وصفنا حالة الجو في محافظة القاهرة لمدة عام فإننا نصف المناخ. (✓)

س 2 صل من العمود (أ) بما يناسبه من العمود (ب) :

العمود (ب)	العمود (أ)
(أ) السلام .	1- يعد من أهم أشكال السطح في شبه جزيرة سيناء
(ب) الاقتصاد.	2- يدل اللون الأبيض في علم مصر على
(ج) جبل سانت كاترين .	3- ساعد موقع مصر الجغرافى على ازدهار.

س 3 ماذا يحدث إذا لم نعرف استخدام البوصلة ؟

.....لم.نتمكن.من.تحديد.الاتجاهات.الأصلية.والفرعية.....

س 4 اختر الإجابة الصحيحة مما بين القوسين :

- 1- إذا أردت تلوين منخفض القطارة على الخريطة فسوف تختار اللون الأخضر.....
(البنى – الأزرق – الأصفر – الأخضر)
- 2- يعرف اتجاه الرياح باستخدام ..جورب.الرياح....
(الأنيمومتر – الترمومتر – جورب الرياح – البارومتر)
- 3- الخطوط التي تتخذ شكلاً طوليًّا على الخريطة تسمى خطوط.الطول.....
(الرموز والألوان – دوائر العرض – خطوط الطول – مفتاح الخريطة)

س1 أكمل العبارات الآتية :

- 1- يتوسط علم مصر طائر
- 2- تعتبر قارة إفريقيا إحدى قارات العالم
- 3- إذا طلب منك بحث عن ملوك مصر القديمة فإن أفضل المصادر التي يمكنك الاعتماد عليها هي المصادر

س2 صف المحافظات الآتية على حسب المجموعة التي تنتمى إليها في الجدول التالي :
(المنيا - البحيرة - أسوان - الشرقية - الوادى الجديد - شمال سيناء)

محافظات الوجه البحري	محافظات الوجه القبلي	محافظات الحدود
.....
.....

س3 اختر الإجابة الصحيحة مما بين القوسين :

- 1- تستخدم الطائرات لالتقاط الصور
(الفضائية - الجوية - البيانية - الشخصية)
- 2- تعد دولة إسبانيا جزءًا من
(البحار - المحيطات - الأنهار - القارات)
- 3- يلون المحيط الأطلنطى على الخريطة باللون
(البنى - الأزرق - الأصفر - الأخضر)

س4 اذكر اثنين من مظاهر احتفال محافظتك بعيدها القومى.

.....

.....

.....

.....

.....

س1 أكمل العبارات الآتية :

- 1- يتوسط علم مصر طائر ...النسر.....
- 2- تعتبر قارة إفريقيا إحدى قارات العالم ..القديم.....
- 3- إذا طلب منك بحث عن ملوك مصر القديمة فإن أفضل المصادر التي يمكنك الاعتماد عليها هي المصادر ...الأولية.....

س2 صف المحافظات الآتية على حسب المجموعة التي تنتمى إليها في الجدول التالي :

(المنيا – البحيرة – أسوان – الشرقية – الوادى الجديد – شمال سيناء)

محافظات الوجه البحري	محافظات الوجه القبلي	محافظات الحدود
البحيرة	المنيا	الوادى الجديد
الشرقية	أسوان	شمال سيناء

س3 اختر الإجابة الصحيحة مما بين القوسين :

- 1- تستخدم الطائرات لالتقاط الصور الجوية.....
- (الفضائية – الجوية – البيانية – الشخصية)
- 2- تعد دولة إسبانيا جزءاً من ..القارات.....
- (البحار – المحيطات – الأنهار – القارات)
- 3- يلون المحيط الأطلنطى على الخريطة باللون الأزرق.....
- (البنى – الأزرق – الأصفر – الأخضر)

س4 اذكر اثنين من مظاهر احتفال محافظتك بعيدها القومى.

مظاهر احتفال محافظتى بعيدها القومى :

- 1- تزيين وتجميل ميادين وشوارع المحافظة.
- 2- إقامة المهرجانات والاحتفالات والمسابقات.

س 1 صوب ما تحته خط :

- 1- يضم شعار محافظة القاهرة جامع أحمد بن طولون. (.....)
- 2- الهضبة أرض شديدة الارتفاع ولها قمة. (.....)
- 3- استخدم المصريون قناة السويس كطريق للتجارة بين شمال مصر وجنوبها. (.....)

س 2 ما النتائج المترتبة على : حفر قناة السويس؟

.....

.....

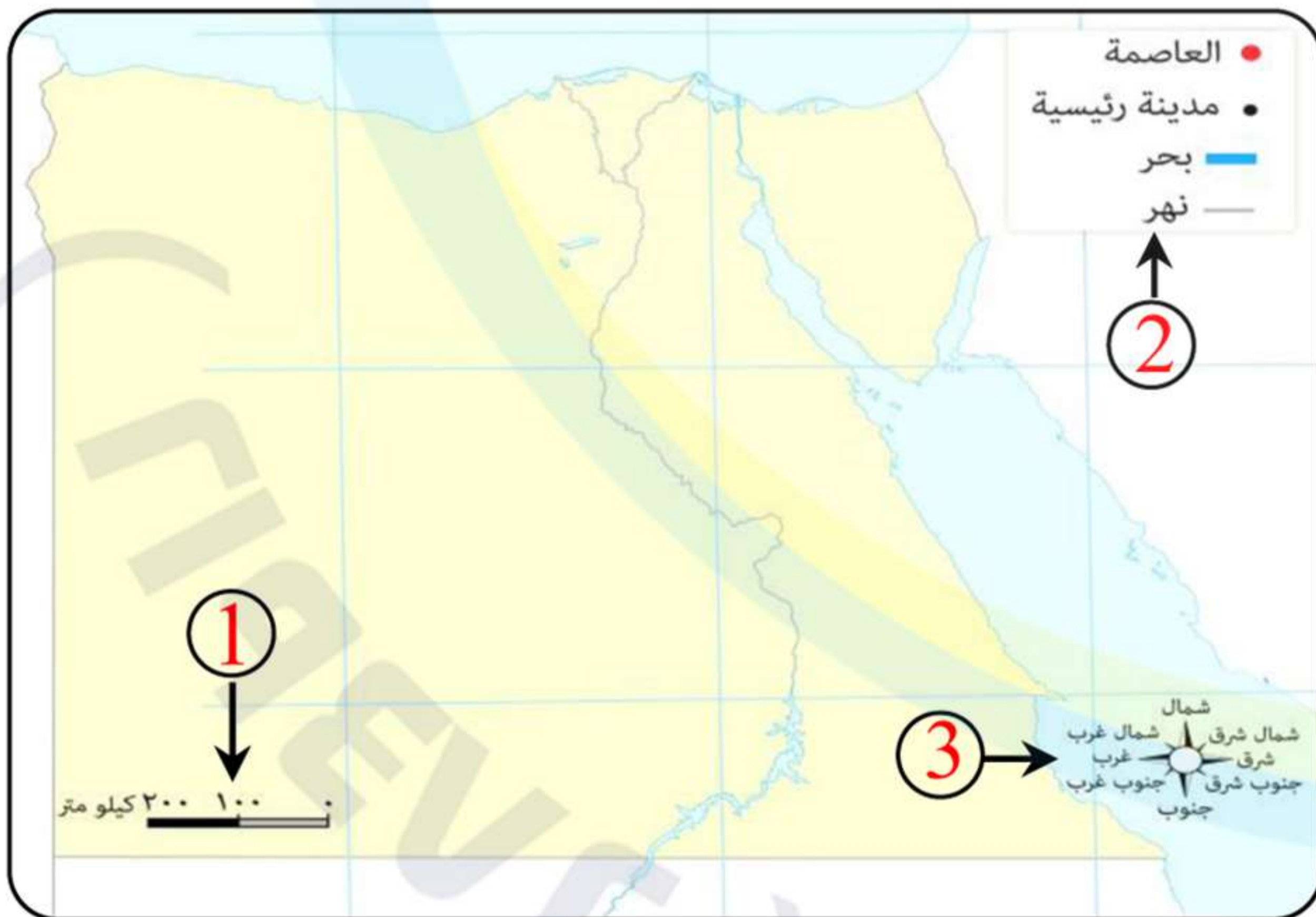
.....

س 3 أكمل العبارات الآتية بما يناسبها من كلمات مما بين القوسين :

(شبكة الإحداثيات - الشعار - الأنهار)

- 1- تتكون السهول الفيضية على جانبي
- 2- يطلق على خطوط الطول ودوائر العرض اسم
- 3- راية تتخذها المحافظة رمزاً لها وتصف نشاط سكانها

س 4 أمامك خريطة صماء لمصر. اكتب مدلول الأرقام الموضحة لعناصر الخريطة:



4 خريطة مصر

- 1-
- 2-
- 3-
- 4-

س 1 صوب ما تحته خط :

- 1- يضم شعار محافظة القاهرة جامع أحمد بن طولون. (الجامع الأزهر.....)
- 2- الهضبة أرض شديدة الارتفاع ولها قمة. (الجبل.....)
- 3- استخدم المصريون قناة السويس كطريق للتجارة بين شمال مصر وجنوبها. (نهر...النيل.)

س 2 ما النتائج المترتبة على : حفر قناة السويس؟

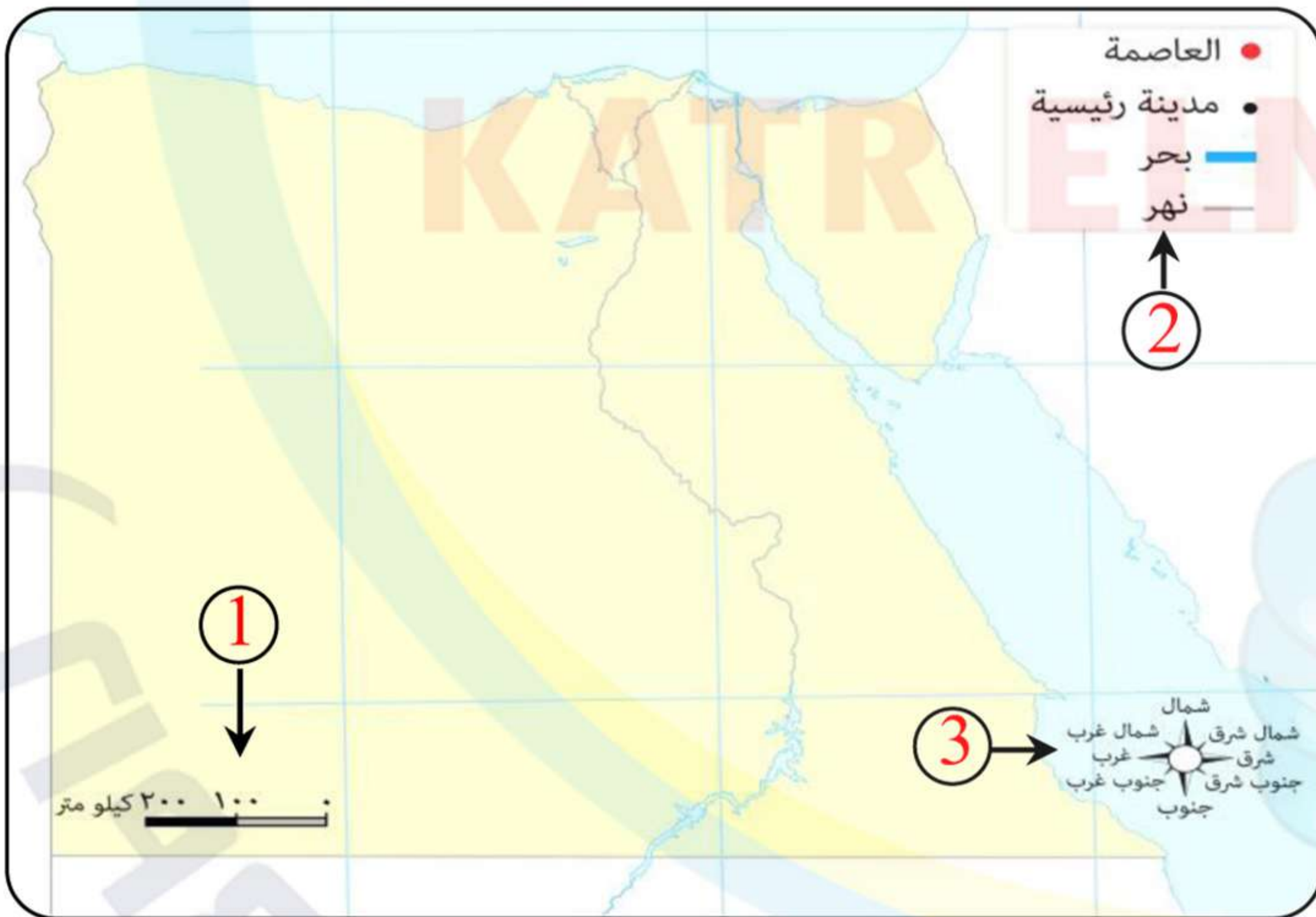
.....زادت أهمية موقع مصر..وازدهر الاقتصاد المصري.....

س 3 أكمل العبارات الآتية بما يناسبها من كلمات مما بين القوسين :

(شبكة الإحداثيات – الشعار – الأنهار)

- 1- تتكون السهول الفيضية على جانبي...الأنهار.....
- 2- يطلق على خطوط الطول ودوائر العرض اسم...شبكة الإحداثيات....
- 3- راية تتخذها المحافظة رمزاً لها وتصف نشاط سكانها...الشعار.....

س 4 أمامك خريطة صماء لمصر. اكتب مدلول الأرقام الموضحة لعناصر الخريطة:



- 1- مقياس الرسم.....
- 2- مفتاح الخريطة.....
- 3- وردة البوصلة.....
- 4- عنوان الخريطة.....

4 → خريطة مصر